

Addition du même nombre

Compétence : Résoudre un problème d'itération d'additions

Je manipule J'utilise des .

→ Construis  et .


→ Que remarques-tu concernant ces deux barres ?

→ Combien de cubes y a-t-il en tout ?


J'observe




Compte les billes  dans chaque groupe et complète.





5 billes




5 billes





5 billes

Il y a 3 groupes de billes . Chaque groupe a 5 billes .

En tout, il y a 15 billes .

J'apprends



$$3 + 3 + 3 + 3 = 12$$

$$4 \text{ groupes de } 3 = 12$$

4 groupes de 3